

1. ¿Qué elementos de protección individual usaría para el manejo de amoniaco?

2. ¿Qué debe hacer si al tocar la lavadora sintiera una pequeña descarga eléctrica?

3. ¿Qué significa esta señal?



4. ¿Cómo se contabilizan las prendas sucias de pequeño tamaño?

5. Cuando montamos una mesa cuadrada en el comedor, las esquinas del mantel deben coincidir con

6. Si un alimento sale emplatado de la cocina, se servirá al comensal por la _____

7. En un servicio a la inglesa, presentaremos la fuente al comensal por la _____

y serviremos por la _____

8. Las pinzas de servir están compuestas por dos cubiertos: _____ y _____

9. Especifica en que posición y con que cubierto indicarías que el primer plato son verduras:

10. ¿Qué es desbaratar una mesa?

11. ¿Qué es un rechaud?



12. ¿Con que nombre se conoce el vale que por triplicado se toma al cliente de los alimentos que desea tomar?

13. ¿Qué son los gueridones?



14. ¿Qué significa esta señal?



15. ¿Qué significa esta señal?




16. ¿Qué significan estas señales?



17. ¿Qué significan estas señales?



18. ¿Qué significan estas señales?



19. Clasifica los siguientes desperdicios en los dos tipos existentes: (los tipos son : orgánico e inorgánico)

- Caja de cartón _____
- Envase de cristal _____
- Envoltorio de plástico _____
- Peladuras de frutas _____
- Restos de comida _____

20. Clasifica los siguientes residuos en uno de los cinco contenedores, poniendo la letra en el respectivo cuadrado:

- (A) Tubo fluorescente
- (B) Tetra-brik vacío
- (C) Lata de refresco
- (D) Periódico
- (E) Botella de lejía
- (F) Botella de cava
- (G) Cuaderno
- (H) Hule
- (I) Silla de madera
- (J) Bocado de mortadela

<u>PAPEL</u>	<u>VIDRIO</u>	<u>PLASTICO</u>	<u>ORGANICO</u>	<u>EN NINGUNO DE LOS ANTERIORES</u>

21. ¿Qué desinfectante es el ideal debido a que actúa sobre gran parte de los gérmenes?

22. Si en un lavaplatos industrial los vasos salen con manchas blancas ¿a qué es debido?

23. Si la vajilla no sale seca del lavaplatos ¿a qué es debido?


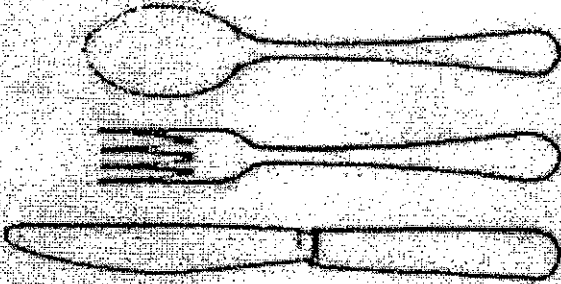

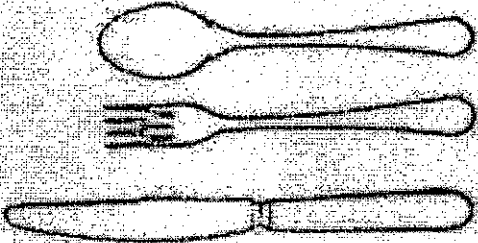

24. Abrillantar los cristales con papel de periódico es un ejemplo de _____

- A - Reducción
- B - Reutilización
- C - Reciclaje

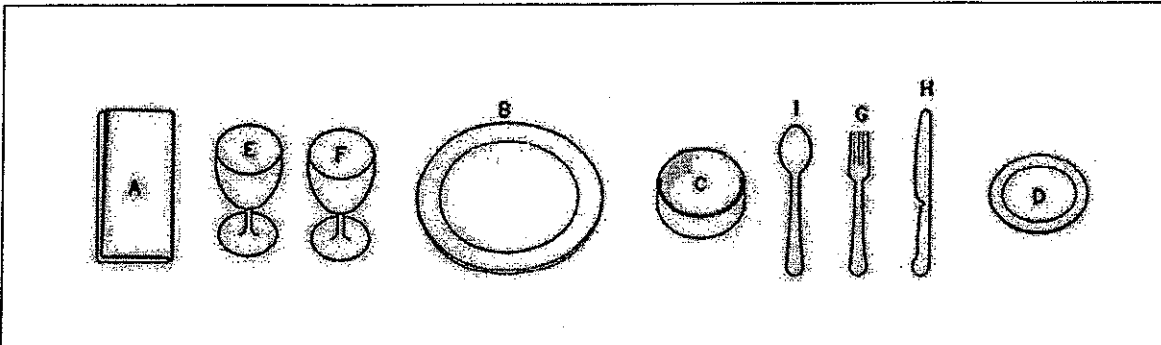
25. Cuando las bandejas son retiradas de las habitaciones se considerarán restos todos aquellos comestibles no ingeridos por la persona a la cual van destinados, incluyéndose los productos que no haya degustado.

- A - Verdadero
- B - Falso

26. Indicar el nombre de cada uno de los siguientes útiles:


	
	
	
	
	

27. Disponemos de los siguientes elementos:



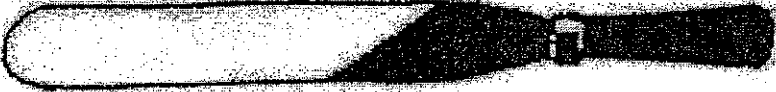




A : Servilleta individual	F: Copa de vino
B: Plato para almuerzo	G: Tenedor para almuerzo
C: Tazón para consomé	H: Cuchillo para almuerzo
D: Plato para pan	I: Cuchara sopera
E: Copa de agua	

Introducir las letras en los recuadros correspondientes para montar la mesa



28. Indicar el nombre de los siguientes utensilios:

29. Caso práctico

Pilar y Jorge se enfrentan a su primer día de trabajo en una Residencia de la Tercera Edad del Instituto Aragonés de Servicios Sociales. Por esos días, las necesidades del centro de trabajo son un tanto especiales pues se celebran las fiestas patronales y la plantilla habitual se encuentra mermada de personal por los numerosos permisos. De modo que Pilar y Jorge tendrán que hacer rotaciones y pasar tanto por los servicios de hostelería, como por los de cocina y lavandería.

A primera hora, en el momento de la distribución de los equipos y tareas, Aurelio, el Subgobernante, les explica que el día anterior se celebró una fiesta en el salón comedor en la que los usuarios del Centro de Día rindieron honores a la patrona. Aunque el equipo del turno de tarde ya había recogido los restos más visibles de desperdicios, era preciso efectuar un repaso a conciencia antes de proceder al montaje del comedor.

Lo primero que tuvieron que hacer Jorge y Pilar fue limpiar el suelo del salón comedor, que era de gres y tenía numerosos restos de refrescos azucarados utilizando _____

A la hora de servir los platos, Jorge y Pilar, comprobaron que dada la edad avanzada de los comensales estaba totalmente justificado el servicio a la inglesa. Los alimentos vinieron de la cocina servidos _____, para que los camareros y camareras pudieran facilitar los platos a los comensales por su lado _____, presentando la fuente por el flanco _____. Fue cuando tuvieron que ayudarse de _____ para servir el pescado, cuando notaron su falta de experiencia.

Una vez en la Lavandería los dos PESDs fueron destinados a la sección de clasificación de prendas. Su función consistió en separar la ropa de color según las 6 principales clases de tejidos (según su origen): 1. Algodón, 2. _____, 3. _____, 4. _____, 5. _____ y 6. Telas de punto, para a continuación distribuirla en las máquinas lavadoras preparadas con los programas adecuados a cada tipo de tejido. Antes de cargar la ropa en los tambores procedieron a _____, y de este modo se pudieron calcular las dosis de detergente a emplear en cada máquina y en cada lavada.